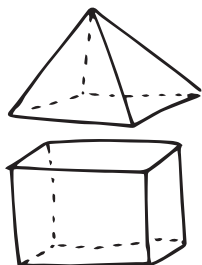


СОВРЕМЕННЫМ УЧИТЕЛЯМ



Задания рабочей тетради составлены в соответствии с требованиями ФГОС начального общего образования и помогают развить у детей следующие навыки:


- ♦ решение задач разных типов;
- ♦ составление задач по рисунку, схеме;
- ♦ умение обосновать действия, при помощи которых решается задача.

Задания разного уровня сложности способствуют дифференцированной работе с учащимися, а тематические проверочные работы помогают контролировать знания.

ОТВЕТСТВЕННЫМ РОДИТЕЛЯМ




Тетрадь-тренажёр удобного формата будет полезна родителям, которые стремятся углубить и закрепить знания своих детей; помочь им детально проработать алгоритмы решений и решить более сотни задач.




Эта необычная яркая тетрадь по математике поможет тебе:

- ♦ научиться различать задачи разных типов;
- ♦ самостоятельно составлять задачи;
- ♦ решать задачи шаг за шагом.

ПРИЛЕЖНЫМ УЧЕНИКАМ





2 Реши задачи. Объясни ход своих рассуждений.

- ♦ На двух столах было 27 тарелок. Когда с одного стола убрали 3 тарелки, на обоих столах их стало поровну. Сколько тарелок было вначале на каждом столе?

Решение:

Ответ: _____.

- ♦ За первый день черепаха проползла 260 м, за второй — на 90 м больше, а за третий — на 480 м меньше, чем за первый и второй вместе. Сколько метров проползла черепаха за третий день?

Решение:

Ответ: _____.



! Реши задачу устно. Укажи правильный ответ.

- ♦ В первый день каток посетило 160 человек, а во второй — в 3 раза больше. Учащиеся четвёртых классов составляют $\frac{1}{6}$ часть всех посетивших каток. Сколько четвероклассников посетило каток во второй день?

78

108

80



ЗАДАЧИ В КОСВЕННОЙ ФОРМЕ



1 Реши задачи. Объясни ход своих рассуждений.

- ♦ В первом улье 48 пчёл. Это на 25 пчёл меньше, чем во втором. Сколько пчёл во втором улье?

Решение:

Ответ: _____.

- ♦ На второй полке лежит 55 тетрадей. Это на 16 тетрадей меньше, чем на первой. Сколько тетрадей лежит на первой полке?

Решение:

Ответ: _____.

- ♦ Дядя Миша отсыпал из мешка 27 кг картофеля. Это на 14 кг больше, чем взяла тётя Наташа. Сколько килограммов картофеля отсыпала тётя Наташа?


Решение:


Ответ: _____.

- ♦ У Иры 18 кроликов. Это в 2 раза больше, чем у Ани. Сколько кроликов у Ани?



Решение:

Ответ: _____.







2 Составь и реши задачи. Объясни ход своих рассуждений.

 — 24, это в 4 раза > }
 — ? ←



Решение:

Ответ: _____.

 — ? ← }
 — 9, это в 3 раза <



Решение:

Ответ: _____.

 — 56, это в 7 раз > }
 — ? ←

Решение:

Ответ: _____.

 — ? ← }
 — 8, это в 5 раз <

Решение:

Ответ: _____.



! Реши задачу устно. Укажи правильный ответ.

◆ Показ фильма в кинотеатре закончился в 15:30. Шёл фильм полтора часа. Во сколько начался сеанс?

13:30

14:00

12:00

