

Работа 1

① Вставь пропущенные числа.

$32 - _ + 9 - 23 + 52 = 69$	$60 - 9 + 40 - 1 - _ = 15$	$44 + 3 - 21 + 4 + 4 - _ = 22$
$_ + 4 - 3 + 10 - 6 = 75$	$52 + _ - 6 + 11 - 70 = 17$	$98 - 36 + 20 - _ + 9 = 89$
$50 - _ + 2 + 40 - 9 = 61$	$_ - 80 + 43 - 7 + 14 = 56$	$86 + 5 - _ + 17 - 2 = 66$
$25 + 5 - _ + 8 + 6 = 34$	$29 + 1 + 50 - 3 + _ = 97$	$78 - _ + 2 - 9 + 8 = 19$

② Вставь числа, чтобы равенства стали верными.

$$54 : \square = 9 = \square : 9 = \square : 7 \qquad 7 \times \square = 14 = \square - 9 = 2 \times \square$$

$$3 \times 6 = \square = 9 \times \square = 26 - \square \qquad 49 : 7 = \square = 28 : \square = \square \times 7$$


③ Заполни пропуски в равенствах.

$$7 \text{ м} - 6 \text{ м} 17 \text{ см} = _ \text{ м} _ \text{ мм} \qquad 5 \text{ ч} 12 \text{ мин} - 58 \text{ мин} = _ \text{ ч} _ \text{ мин}$$

④ В равенствах пропущены числа 3, 4, 7 и 8. Заполни пропуски. В каждом равенстве используй три разных числа.

$$1) _ \times _ - _ = 4 \qquad 2) (_ - _) \times _ = 24 \qquad 3) _ \times _ - _ = 52$$

⑤ У Юли живут два кота — Тишка и Барсик. Один из них белый и пушистый, другой — серый и короткошёрстный. Тишка — короткошёрстный. Какого цвета Барсик? _____



⑥ Костя умножил 518 на 244 и получил 126397, а также он умножил 347 на 272 и получил 94383. Рита посмотрела на ответы и поняла, что Костя ошибся. Как она это определила? _____

⑦ 4 одинаковых апельсина тяжелее, чем 5 одинаковых яблок. Что тяжелее, 5 таких апельсинов или 6 таких яблок? _____

⑧ Дед в 7 раз старше внука. Вместе им 72 года. Сколько лет деду? _____

Работа 2

① Вставь пропущенные числа

$97 + 3 - 91 + (97 - \underline{\quad}) + 6 = 24$	$92 - 79 + 2 + 79 - \underline{\quad} + 2 + 12 = 41$
$95 - 16 + (\underline{\quad} - 89) + 6 = 93$	$3 + 91 - 5 - 74 + 6 + 14 - 5 + \underline{\quad} = 50$
$96 + 2 - 94 + 28 - 16 + \underline{\quad} = 25$	$34 - 5 + \underline{\quad} - 6 + 6 + 5 - (61 - 52) = 36$
$13 + 48 + 6 + (87 + 9 - \underline{\quad}) + 8 = 78$	$50 - 7 - 3 + 11 - 9 - \underline{\quad} - 4 + 31 = 56$

② Вставь числа, чтобы равенства стали верными.

$32 : \square = 4 = \square : 4 = 2 \times \square$

$\square \times 7 = 63 = 58 + \square = \square \times 9$

$42 : 7 = \square = 54 : \square = \square \times 2$

$64 : 8 = \square = \square : 6 = 56 : \square$

③ Продолжи равенства.

$94080 \text{ м} : 4 = \underline{\hspace{2cm}}$

$961 \text{ км } 269 \text{ м} : 2 = \underline{\hspace{2cm}}$

$96 \text{ т } 120 \text{ кг} : 6 = \underline{\hspace{2cm}}$



④ Рассмотрим первое равенство. Закончи остальные равенства, используя его.

$T0 + T0 = P0$

$T \times 2 = \underline{\hspace{2cm}}$

$T00 \times 2 = \underline{\hspace{2cm}}$

⑤ Вася, Тимофей и Рома лепили животных из пластилина. Два мальчика вылепили слона, а один — медведя. Тимофей и Вася вылепили одинаковых животных. Кого вылепил Рома? _____



⑥ Каким по счёту будет 9-й этаж двадцатиэтажного дома, если считать сверху? _____

⑦ Если бы у меня было ещё столько же денег, сколько есть сейчас, ещё половина того, что есть сейчас и ещё 2 р., то у меня было бы 27 р. Сколько у меня сейчас денег? _____

⑧ Сумма двух чисел равна 9, а их произведение — 18. Какие это числа? _____